

# 入学試験問題



## 地理歴史

(配点 120 点)

平成 30 年 2 月 26 日 9 時 30 分—12 時

### 注意事項

- 1 試験開始の合図があるまで、この問題冊子を開いてはいけません。
- 2 この問題冊子は全部で 47 ページあります(本文は日本史 4 問 4～11 ページ, 世界史 3 問 12～27 ページ, 地理 3 問 28～47 ページ)。  
落丁, 乱丁または印刷不鮮明の箇所があったら, 手を挙げて監督者に知らせなさい。
- 3 日本史, 世界史, 地理のうちから, あらかじめ届け出た 2 科目について解答しなさい。
- 4 解答には, 必ず黒色鉛筆(または黒色シャープペンシル)を使用しなさい。
- 5 解答は, 1 科目につき 1 枚の解答用紙を使用しなさい。
- 6 解答用紙の指定欄に, 受験番号(表面 2 箇所, 裏面 1 箇所), 科類, 氏名を記入しなさい。指定欄以外にこれらを記入してはいけません。
- 7 解答は, 必ず解答用紙の指定された箇所に記入しなさい。
- 8 解答用紙表面上方の指定された( )内に, その用紙で解答する科目名を記入しなさい。
- 9 解答用紙表面の上部にある切り取り欄のうち, その用紙で解答する科目の分のみ 1 箇所をミシン目に沿って正しく切り取りなさい。
- 10 解答用紙の解答欄に, 関係のない文字, 記号, 符号などを記入してはいけません。また, 解答用紙の欄外の余白には, 何も書いてはいけません。
- 11 この問題冊子の余白は, 草稿用に使用してもよいが, どのページも切り離してはいけません。
- 12 解答用紙は, 持ち帰ってはいけません。
- 13 試験終了後, 問題冊子は持ち帰りなさい。

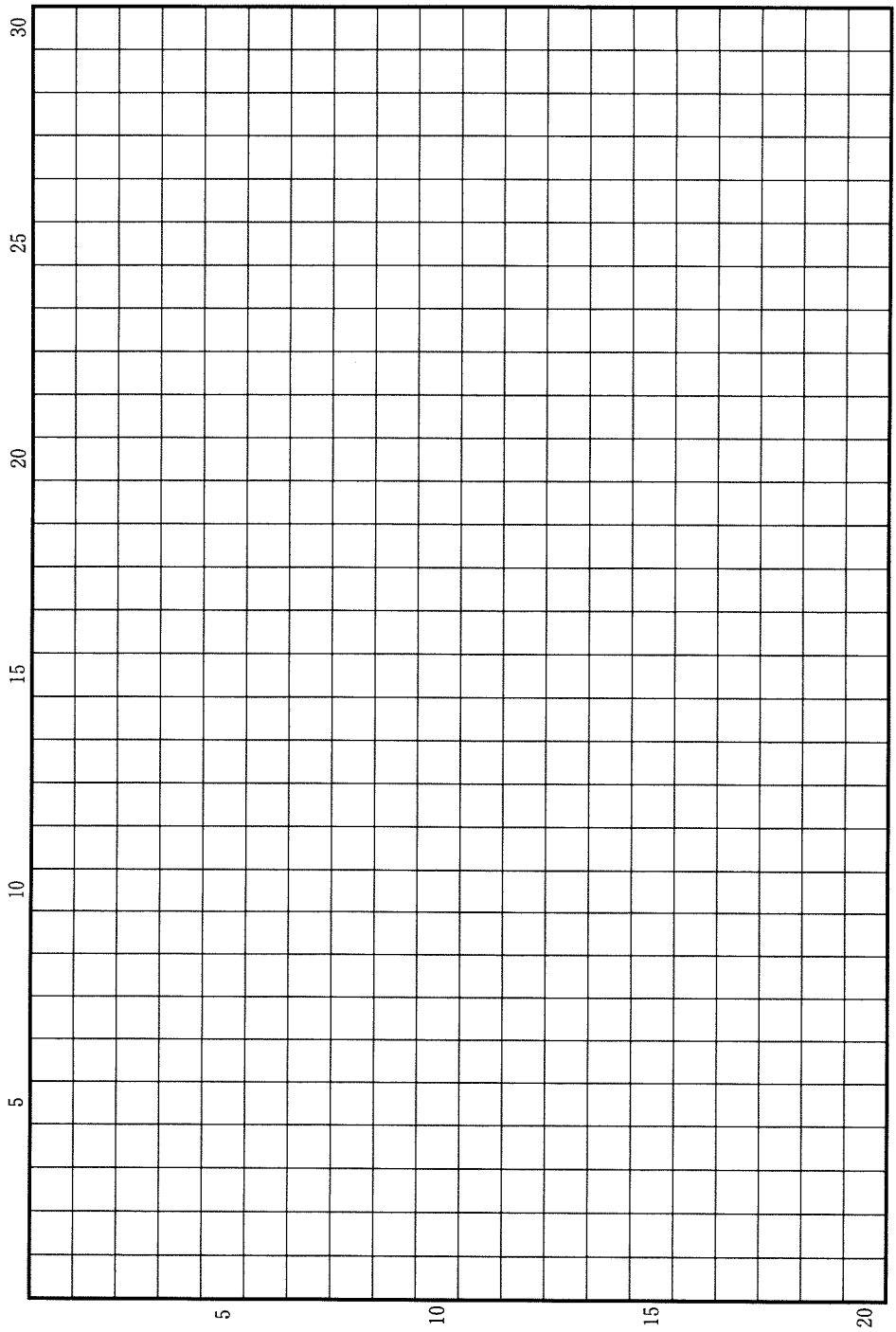
# 日 本 史

## 第 1 問

中国の都城にならって営まれた日本古代の宮都は、藤原京(694～710年)にはじまるとされる。それまでの大王の王宮のあり方と比べて、藤原京ではどのような変化が起きたのか。律令制の確立過程における藤原京の歴史的意義にふれながら、解答用紙(イ)の欄に6行以内で説明しなさい。なお、解答には下に示した語句を一度は用い、使用した語句には必ず下線を引きなさい。

官僚制      条坊制      大王宮      大極殿

草稿用紙 (切り離さないで用いよ。)



## 第 2 問

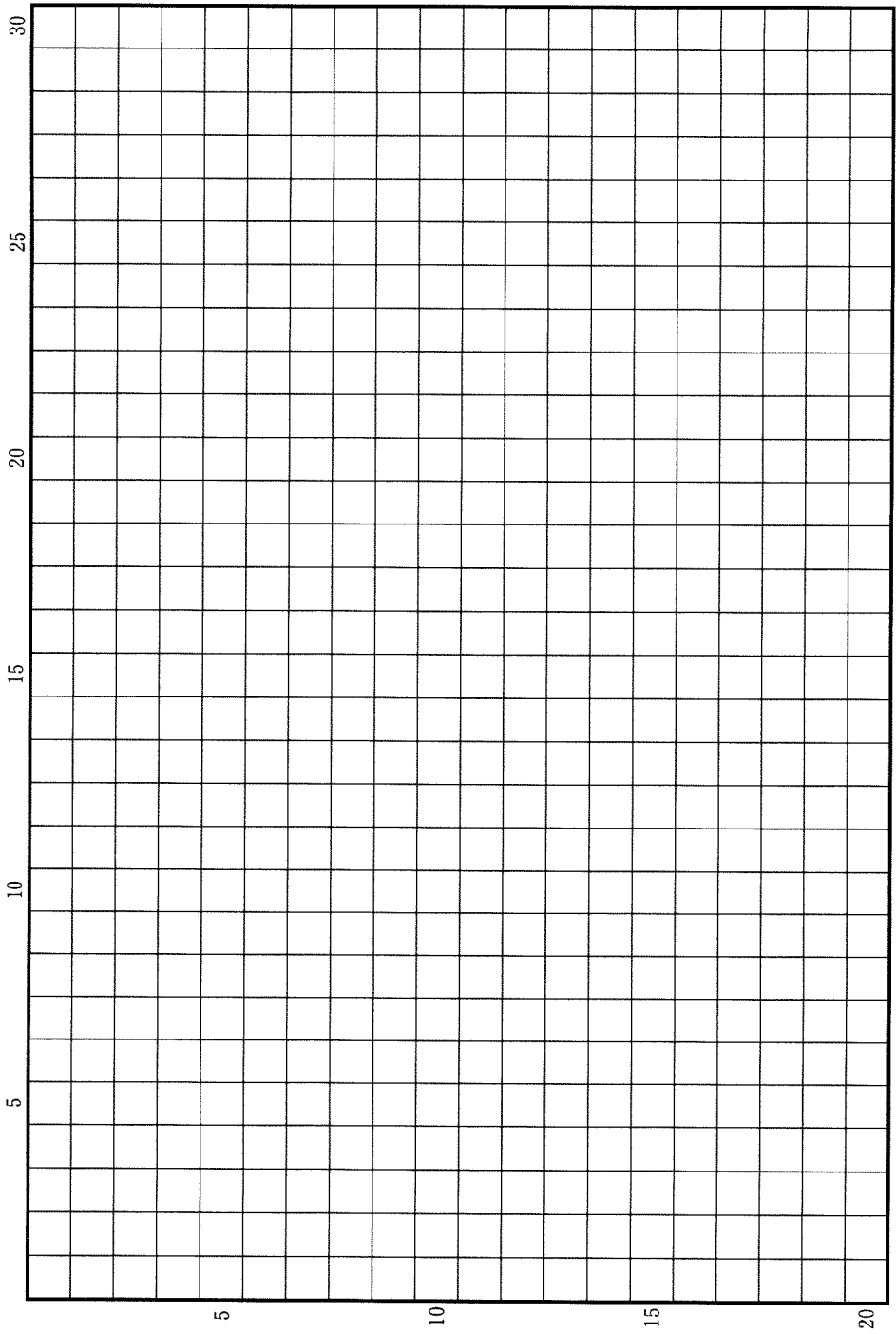
次の(1)~(5)の文章を読んで、下記の設問A・Bに答えなさい。解答は、解答用紙(ロ)の欄に、設問ごとに改行し、設問の記号を付して記入しなさい。

- (1) 『建武式目』第6条は、治安の悪化による土倉の荒廃を問題視し、人々が安心して暮らせるようにするためには、それらの再興が急務であるとうたっている。
- (2) 室町幕府は、南北朝合体の翌年である1393年に土倉役・酒屋役の恒常的な課税を開始した。土倉役は質物数を、酒屋役は酒壺数を基準に賦課され、幕府の年中行事費用のうち年間6000貫文がここから支出された。
- (3) 正長・嘉吉の土一揆は、土倉に預けた質物を奪い返したり、借用証書を焼くなどの実力行使におよんだ。嘉吉の土一揆は、それに加え、室町幕府に対して徳政令の発布も求めた。
- (4) 室町幕府は、1441年、嘉吉の土一揆の要求をうけて徳政令を発布したが、この徳政令は幕府に深刻な財政難をもたらした。
- (5) 室町幕府は、1455年の賀茂祭の費用を「去年冬徳政十分の一、諸人進上分」によってまかなった。

### 設 問

- A 室町幕府の財政にはどのような特徴があるか。その所在地との関係に注目して2行以内で述べなさい。
- B 徳政令の発布が室町幕府に深刻な財政難をもたらしたのはなぜか。また、それを打開するために、幕府はどのような方策をとったか。あわせて3行以内で述べなさい。

草稿用紙 (切り離さないで用いよ。)



### 第 3 問

1825 年、江戸幕府は異国船打払令(無二念打払令)を出した。この前後の出来事に関して述べた、次の(1)~(5)の文章を読んで、下記の設問A・Bに答えなさい。解答は、解答用紙(ハ)の欄に、設問ごとに改行し、設問の記号を付して記入しなさい。

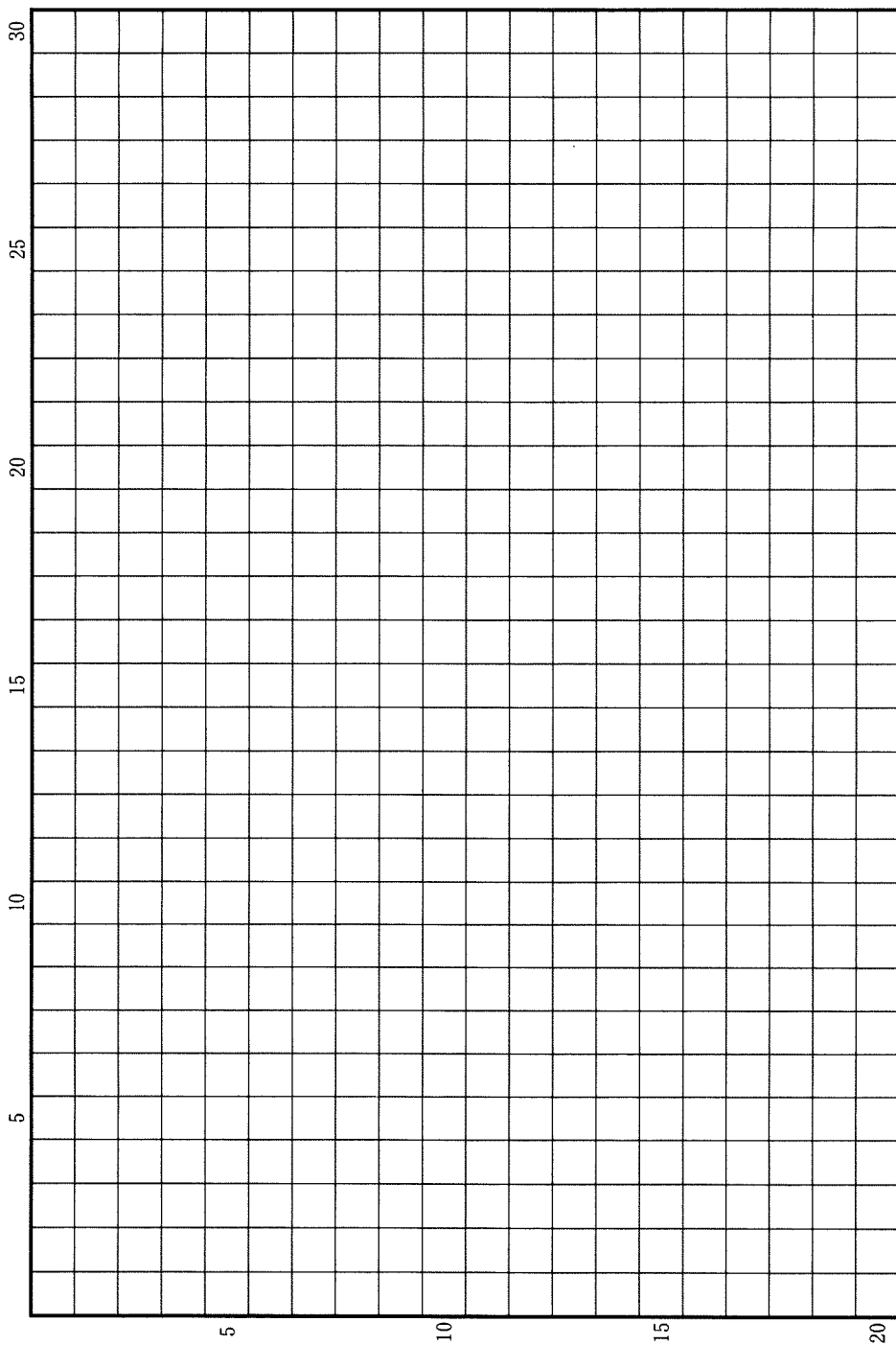
- (1) 1823 年、水戸藩領の漁師らは、太平洋岸の沖合でイギリスの捕鯨船に遭遇した。彼らは、その際に密かに交易をおこなったとの嫌疑を受け、水戸藩の役人により処罰された。
- (2) 1824 年、イギリス捕鯨船の乗組員が、常陸の大津浜に上陸した。幕府および水戸藩は、この事件への対応に迫られた。
- (3) この異国船打払令を将軍が裁可するにあたり、幕府老中は、近海に出没する異国の漁船については、格別の防備は不要であるとの見解を、将軍に説明していた。
- (4) 異国船打払令と同時に、幕府は関連する法令も出した。それは、海上で廻船や漁船が異国の船と「親しみ候」事態について、あらためて厳禁する趣旨のものであった。
- (5) 1810 年から会津藩に課されていた江戸湾の防備は 1820 年に免除され、同じく白河藩による防備は 1823 年に免除された。以後、江戸湾の防備は、浦賀奉行および房総代官配下の役人が担当する体制に縮小され、1825 年以後になっても拡充されることがなかった。

#### 設 問

A 異国船打払いを命じる法令を出したにもかかわらず、(5)のように沿岸防備を強化しなかった幕府の姿勢は、異国船に対するどのような認識にもとづいたものか。2 行以内で説明しなさい。

B 異国船打払令と同時に(4)の法令も出されたことから、幕府の政策にはどのような意図があったと考えられるか。3 行以内で述べなさい。

草稿用紙 (切り離さないで用いよ。)



## 第 4 問

教育勅語は、1890年に発布されたが、その後も時代の変化に応じて何度か新たな教育勅語が模索された。それに関する次の(1)・(2)の文章を読んで、下記の設問 A・Bに答えなさい。解答は、解答用紙(二)の欄に、設問ごとに改行し、設問の記号を付して記入しなさい。

- (1) 先帝(孝明天皇)が国を開き、朕が皇統を継ぎ、旧来の悪しき慣習を破り、知識を世界に求め、上下心を一つにして怠らない。ここに開国の国是が確立・一定して、動かすべからざるものとなった。(中略)条約改正の結果として、相手国の臣民が来て、我が統治の下に身を任せる時期もまた目前に迫ってきた。この時にあたり、我が臣民は、相手国の臣民に丁寧・親切に接し、はっきりと大国としての寛容の気風を発揮しなければならない。

『西園寺公望伝』別巻2(大意)

- (2) 従来の教育勅語は、天地の公道を示されしものとして、決して<sup>あやま</sup>謬りにはあざざるも、時勢の推移につれ、国民今後の精神生活の指針たるに適せざるものあるにつき、あらためて平和主義による新日本の建設の根幹となるべき、国民教育の新方針並びに国民の精神生活の新方向を明示し給うごとき詔書をたまわりたきこと。

「教育勅語に関する意見」


### 設 問

A (1)は、日清戦争後に西園寺公望文部大臣が記した勅語の草稿である。西園寺は、どのような状況を危惧し、それにどう対処しようとしたのか。3行以内で述べなさい。

B (2)は、1946年3月に来日した米国教育使節団に協力するため、日本政府が設けた教育関係者による委員会が準備した報告書である。しかし新たな勅語は実現することなく、1948年6月には国会で教育勅語の排除および失効確認の決議がなされた。そのようになったのはなぜか。日本国憲法との関連に留意しながら、3行以内で述べなさい。



草稿用紙 (切り離さないで用いよ。)



# 世界史

## 第 1 問

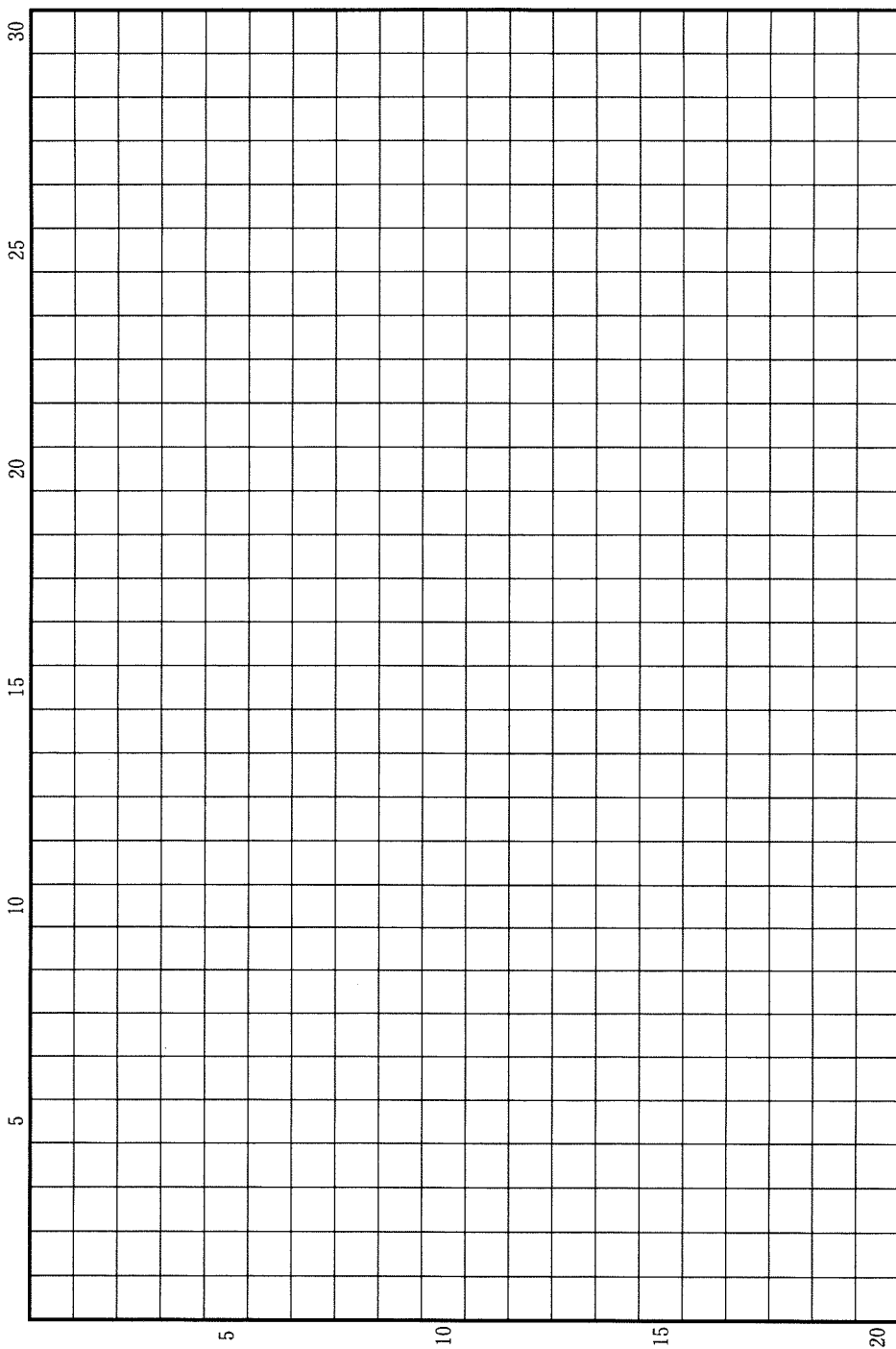
近現代の社会が直面した大きな課題は、性別による差異や差別をどうとらえるかであった。18 世紀以降、欧米を中心に啓蒙思想が広がり、国民主権を基礎とする国家の形成が求められたが、女性は参政権を付与されず、政治から排除された。学問や芸術、社会活動など、女性が社会で活躍する事例も多かったが、家庭内や賃労働の現場では、性別による差別は存在し、強まることもあった。

このような状況の中で、19 世紀を通じて高まりをみせたのが、女性参政権獲得運動である。男性の普通選挙要求とも並行して進められたこの運動が成果をあげたのは、19 世紀末以降であった。国や地域によって時期は異なっていたが、ニュージーランドやオーストラリアでは 19 世紀末から 20 世紀初頭に、フランスや日本では第二次世界大戦末期以降に女性参政権が認められた。とはいえ、参政権獲得によって、女性の権利や地位の平等が実現したわけではなかった。その後、20 世紀後半には、根強い社会的差別や抑圧からの解放を目指す運動が繰り返されていくことになる。

以上のことを踏まえ、19～20 世紀の男性中心の社会の中で活躍した女性の活動について、また女性参政権獲得の歩みや女性解放運動について、具体的に記述しなさい。解答は、解答欄(イ)に 20 行以内で記述し、必ず次の 8 つの語句を一度は用いて、その語句に下線を付しなさい。

キュリー(マリー)	産業革命	女性差別撤廃条約(1979)
人権宣言	総力戦	第 4 次選挙法改正(1918)
ナイティンゲール	フェミニズム	

草稿用紙 (切り離さないで用いよ。)



## 第 2 問

現在に至るまで、宗教は人の心を強くとらえ、社会を動かす大きな原動力となってきた。宗教の生成、伝播、変容などに関する以下の3つの設問に答えなさい。解答は、解答欄(口)を用い、設問ごとに行を改め、冒頭に(1)~(3)の番号を付して答えなさい。

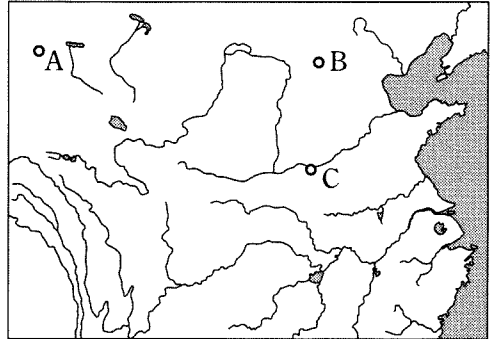
問(1) インドは、さまざまな宗教を生み出し、またいくつもの改革運動を経験してきた。古代インドでは、部族社会がくずれると、政治・経済の中心はガンジス川上流域から中・下流域へと移動し、都市国家が生まれた。そして、それらの中から、マガダ国がガンジス川流域の統一を成し遂げた。こうした状況の中で、仏教やジャイナ教などが生まれた。また、これらの宗教はその後も変化を遂げてきた。これに関する以下の(a)・(b)・(c)の問いに、冒頭に(a)・(b)・(c)を付して答えなさい。

- (a) 新たに生まれた仏教やジャイナ教に共通のいくつかの特徴を3行以内で記しなさい。
- (b) 仏教やジャイナ教などの新宗教が出現する一方で、従来の宗教でも改革の動きが進んでいた。その動きから出てきた哲学の名称を書きなさい。
- (c) 紀元前後になると、仏教の中から新しい運動が生まれた。この運動を担った人々は、この仏教を大乘仏教と呼んだが、その特徴を3行以内で記しなさい。

問(2) 中国においては、仏教やキリスト教など外来の宗教は、時に王朝による弾圧や布教の禁止を経ながらも、長い時間をかけて浸透した。これに関する以下の(a)・(b)の問いに、冒頭に(a)・(b)を付して答えなさい。



図版 1



図版 2

(a) 図版 1 は、北魏の太武帝がおこなった仏教に対する弾圧の後に、都の近くに造られた石窟である。この都の名称と石窟の名称を記し、さらにその位置を図版 2 の A～C から 1 つ選んで記号で記しなさい。

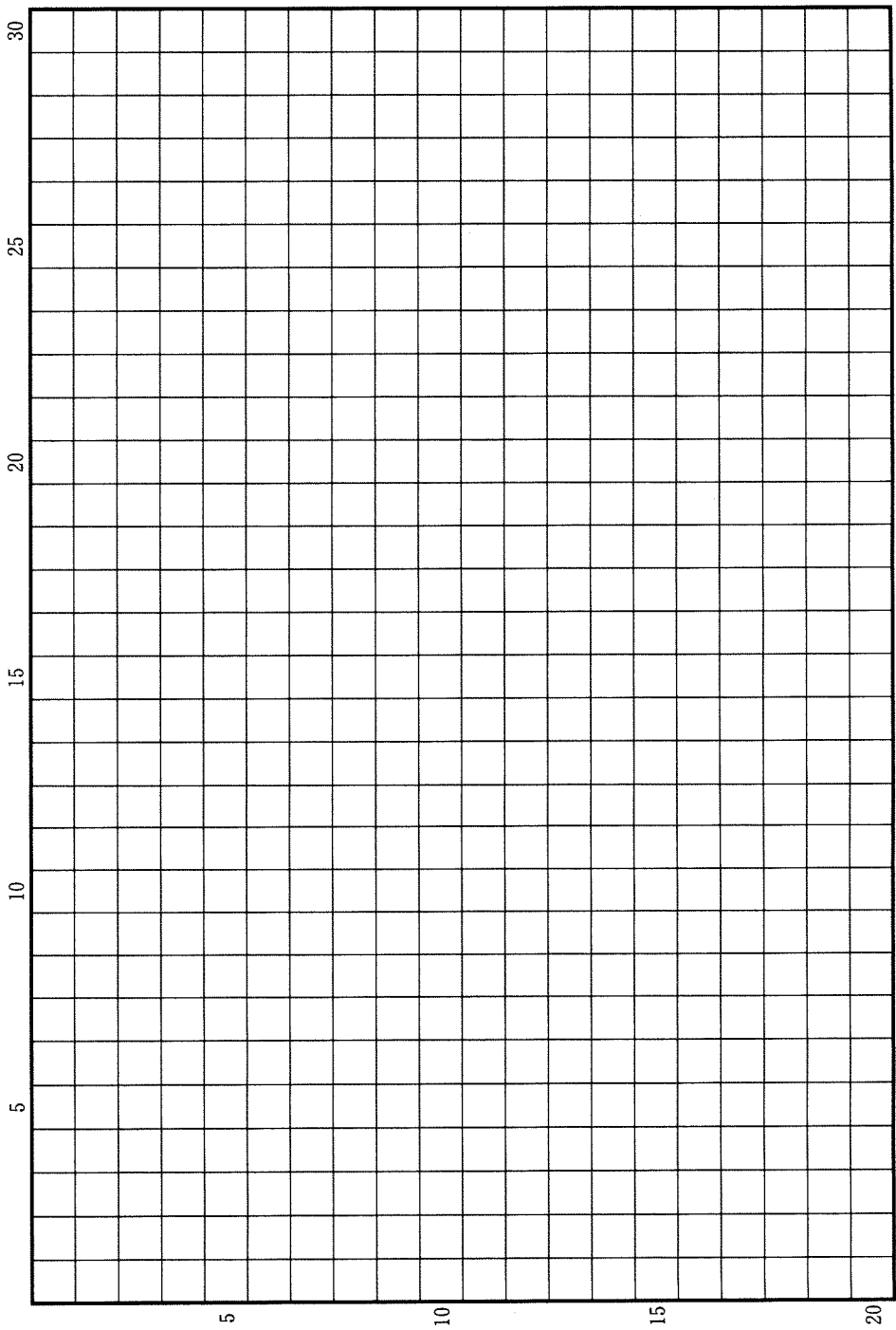
(b) 清朝でキリスト教の布教が制限されていく過程を 3 行以内で記しなさい。

問(3) 1517 年に始まる宗教改革は西欧キリスト教世界の様相を一変させたが、教会を刷新しようとする動きはそれ以前にも見られたし、宗教改革開始以後、プロテスタンティズムの内部においても見られた。これに関する以下の(a)・(b)の問いに、冒頭に(a)・(b)を付して答えなさい。

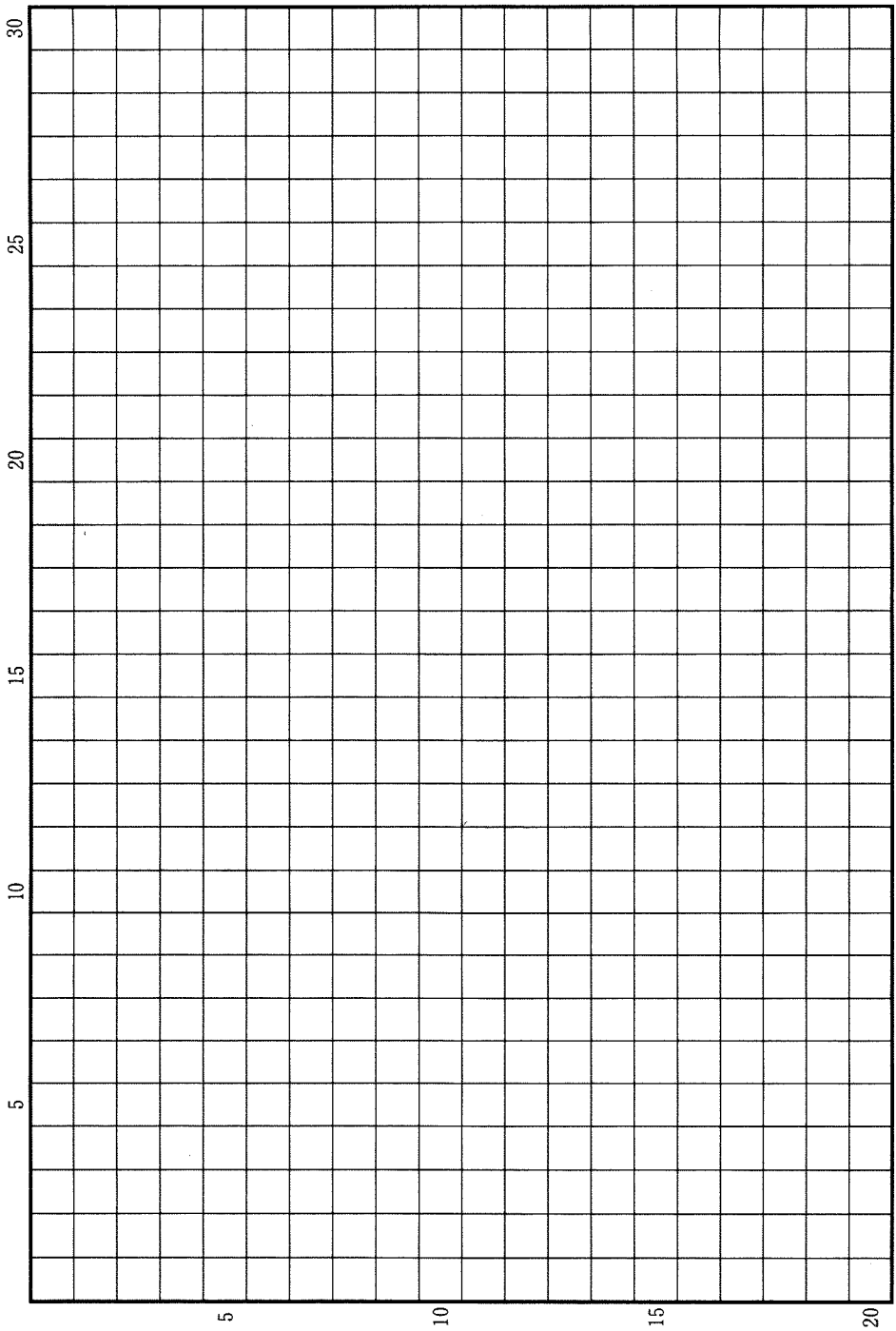
(a) 13 世紀に設立されたフランチェスコ会(フランシスコ会)やドミニコ会は、それまでの西欧キリスト教世界の修道会とは異なる活動形態をとっていた。その特徴を 2 行以内で記しなさい。

(b) イギリス国教会の成立の経緯と、成立した国教会に対するカルヴァン派(ピューリタン)の批判点とを、4 行以内で記しなさい。

草稿用紙 (切り離さないで用いよ。)



草稿用紙 (切り離さないで用いよ。)




### 第 3 問

世界史において、ある地域の政治的・文化的なまとまりは、文字・言語や宗教、都市の様態などによって特徴づけられ、またそれらの移り変わりに伴って、まとまりの形も変化してきた。下に掲げた図版や地図、資料を見ながら、このような、地域や人々のまとまりとその変容に関する以下の設問(1)~(10)に答えなさい。解答は解答欄(ハ)を用い、設問ごとに行を改め、冒頭に(1)~(10)の番号を付して記しなさい。

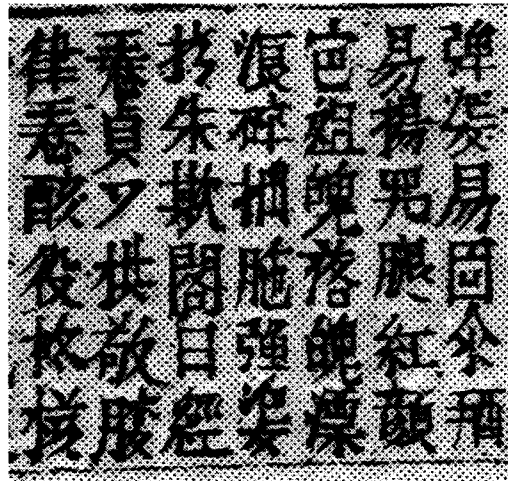


図版 a



図版 b





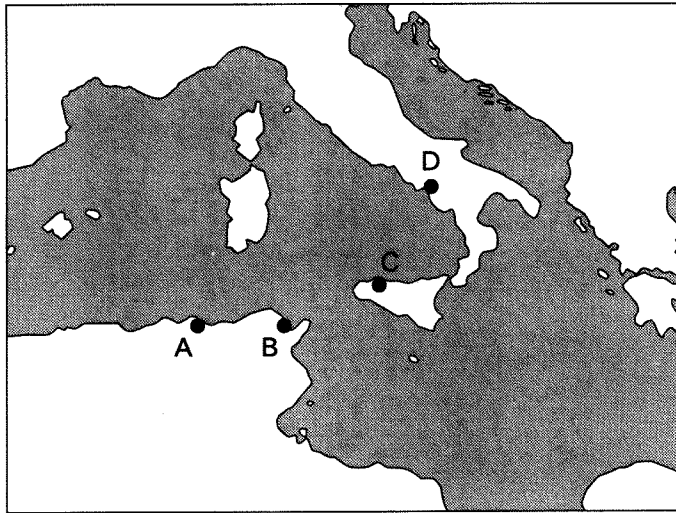
図版 c

問(1) 10～13世紀頃のユーラシア東方では、新たに成立した王権が、独自の文字を創出して統治に用いるという事象が広く見られた。図版 a は、10世紀にモンゴル系の遊牧国家が創り出した文字である。この国家が、南に接する王朝から割譲させた領域を何というか、記しなさい。

問(2) 13世紀にモンゴル高原に建てられた帝国は、周囲の国家をつぎつぎに併合するとともに、有用な制度や人材を取り入れた。図版 b は、この帝国が、滅ぼした国家の制度を引き継いで発行した紙幣であり、そこには、領内から迎えた宗教指導者に新たに作らせた文字が記されている。その新たな文字を何というか、記しなさい。

問(3) 図版 c に含まれるのは、インドシナ半島で漢字を基にして作られた文字であり、13世紀に成立した王朝の頃に次第に用いられるようになった。この王朝は、その南方にある、半島東岸の地域に領域を拡大している。漢字文化圏とは異なる文化圏である、その領域にあった国を何というか、記しなさい。

地図



問(4) 430年、地図中の都市Aの司教は、攻め寄せてきた部族集団に包囲される中、その生涯を閉じた。(a)若い頃にマニ教に関心を示し、その膨大な著作が中世西欧世界に大きな影響を及ぼした、この司教の名前を記しなさい。(b)また、この攻め寄せてきた部族集団は数年後には都市Bも征服した。この部族集団名を記しなさい。解答に際しては、(a)・(b)それぞれについて改行して記述しなさい。

問(5) 次の資料は、地図中の都市Cに関する1154年頃の記述である。下線部①は、直前の時期に起きたこの都市の支配者勢力の交替に伴って、旧来の宗教施設  が新支配者勢力の信奉する宗教の施設に変化したことを述べている。この変化を1行で説明しなさい。

アル=カスル地区は、いにしへの城塞地区で、どこの国でもそう呼ばれている。三つの道路が走っており、その真ん中の通りに沿って、塔のある宮殿、素晴らしく高貴な館、多くの 、商館、浴場、大商人の店が立ち並んでいる。残りの二つの通りに沿っても美しい館、そびえ立つ建物、多くの浴場、商館がある。この地区には、大きな 、あるいは少なくともかつて  とされた建物があり、今は昔のようになっている。

イドリーシー『遠き世界を知りたいと望む者の慰みの書』  
(歴史学研究会編『世界史史料2』より、一部表記変更)

問(6) ウルグアイなど南米で勇名を馳せたある人物は、1860年9月に地図中の都市Dに入り、サルデーニャ王国による国民国家建設に大きな役割を果たした。その一方で、彼の生まれ故郷の港町は同年4月にサルデーニャ王国から隣国に割譲され、その新たな国民国家に帰属することはなかった。この割譲された港町の名前を記しなさい。

問(7) 地図中の都市Aを含む地域は近代以降植民地とされていたが、20世紀後半に起きたこの地域の独立運動とそれに伴う政情不安が契機になり、宗主国の体制が転換することになった。この転換した後の体制の名称を記しなさい。

#### 資料X

世界で  のようにすばらしい都市は稀である。…  は、信徒たちの長ウスマーン閣下の時代にイスラームを受容した。… ティムール<sup>②</sup> = ベグが首都とした。ティムール = ベグ以前に、彼ほどに強大な君主が  を首都としたことはなかった。

バーブル(間野英二訳)『バーブル = ナーマ』(一部表記変更)

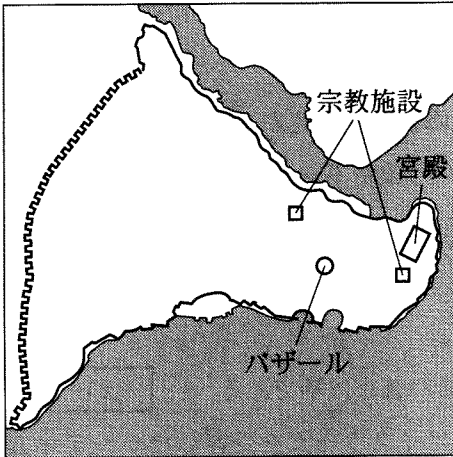
#### 資料Y

ティムールがわれわれに最初の謁見を賜った宮殿のある庭園は、ディルクシャーと呼ばれていた。そしてその周辺の果樹園の中には、壁が絹かもしくはそれに似たような天幕が、数多く張られていた。… 今までお話ししてきたこれらの殿下(ティムール)の果樹園、宮殿などは、 の町のすぐ近くにあり、そのかなたは広大な平原で、そこには河から分かれる多くの水路が耕地の間を貫流している。その平原で、最近、ティムールは自身のための帳幕を設営させた。

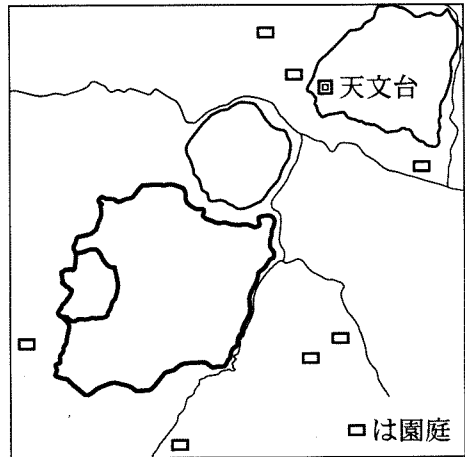
クラヴィホ(山田信夫訳)『ティムール帝国紀行』(一部表記変更)

問(8) 次の図ア～エのうち、資料X・Yで述べられている都市 **い** を描いたものを選び、その記号を記しなさい。

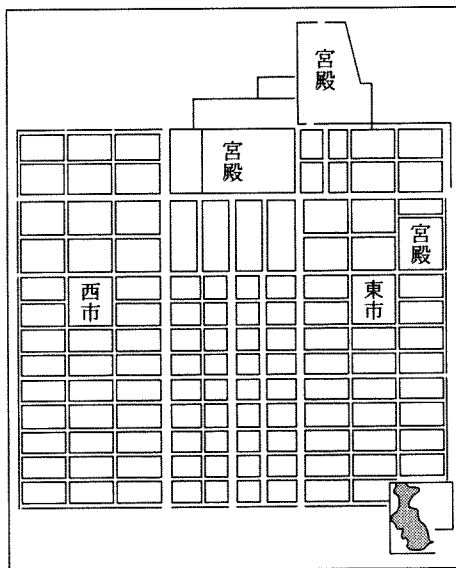
ア



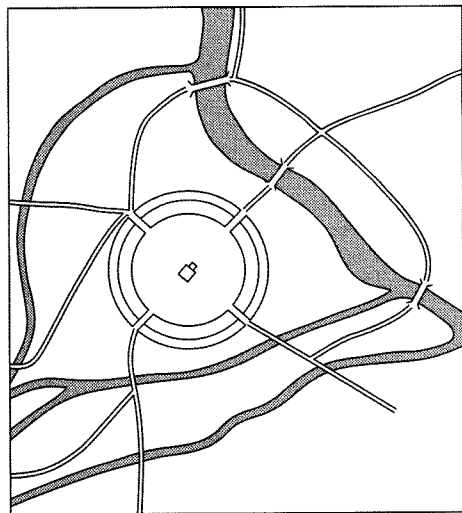
イ



ウ



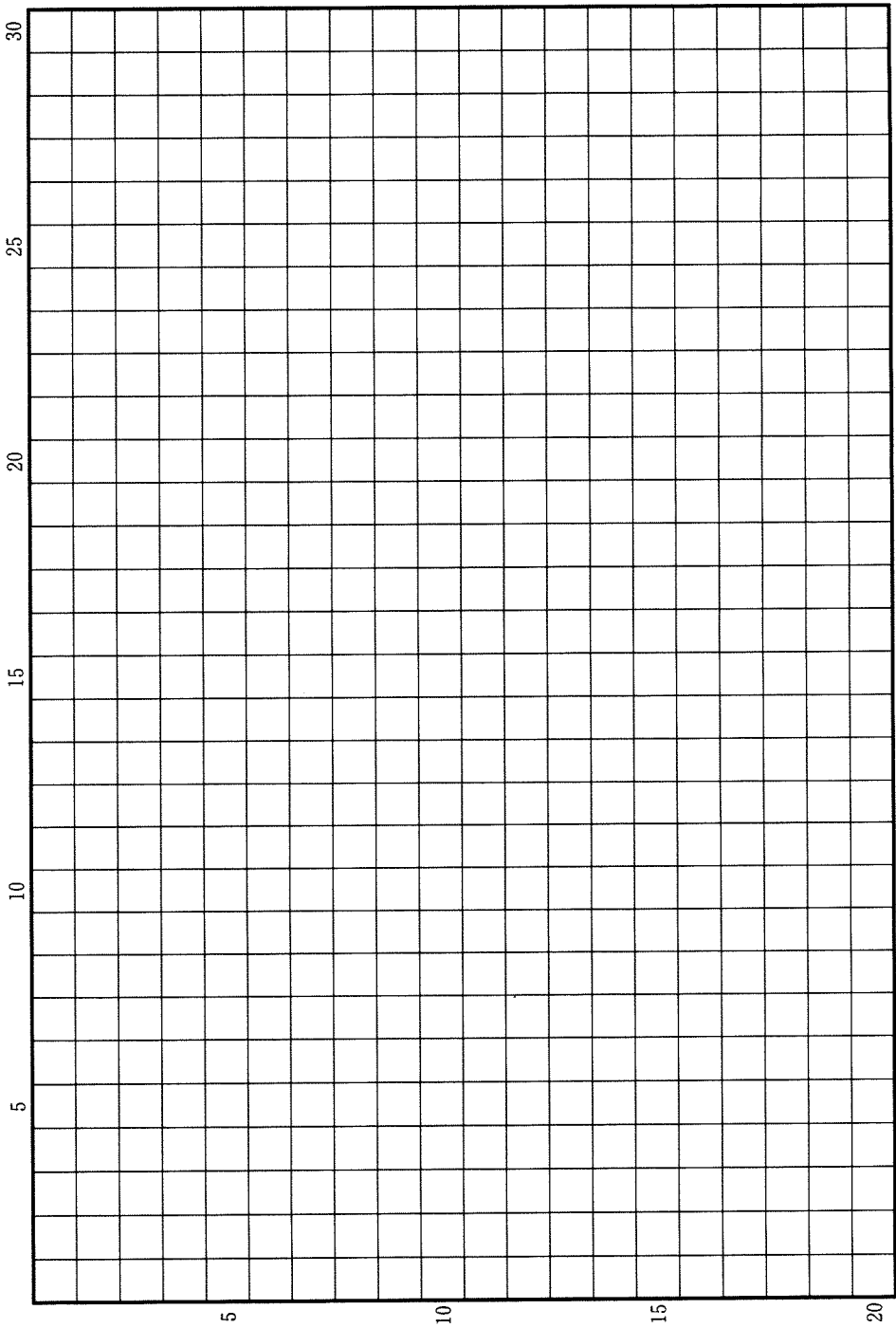
エ



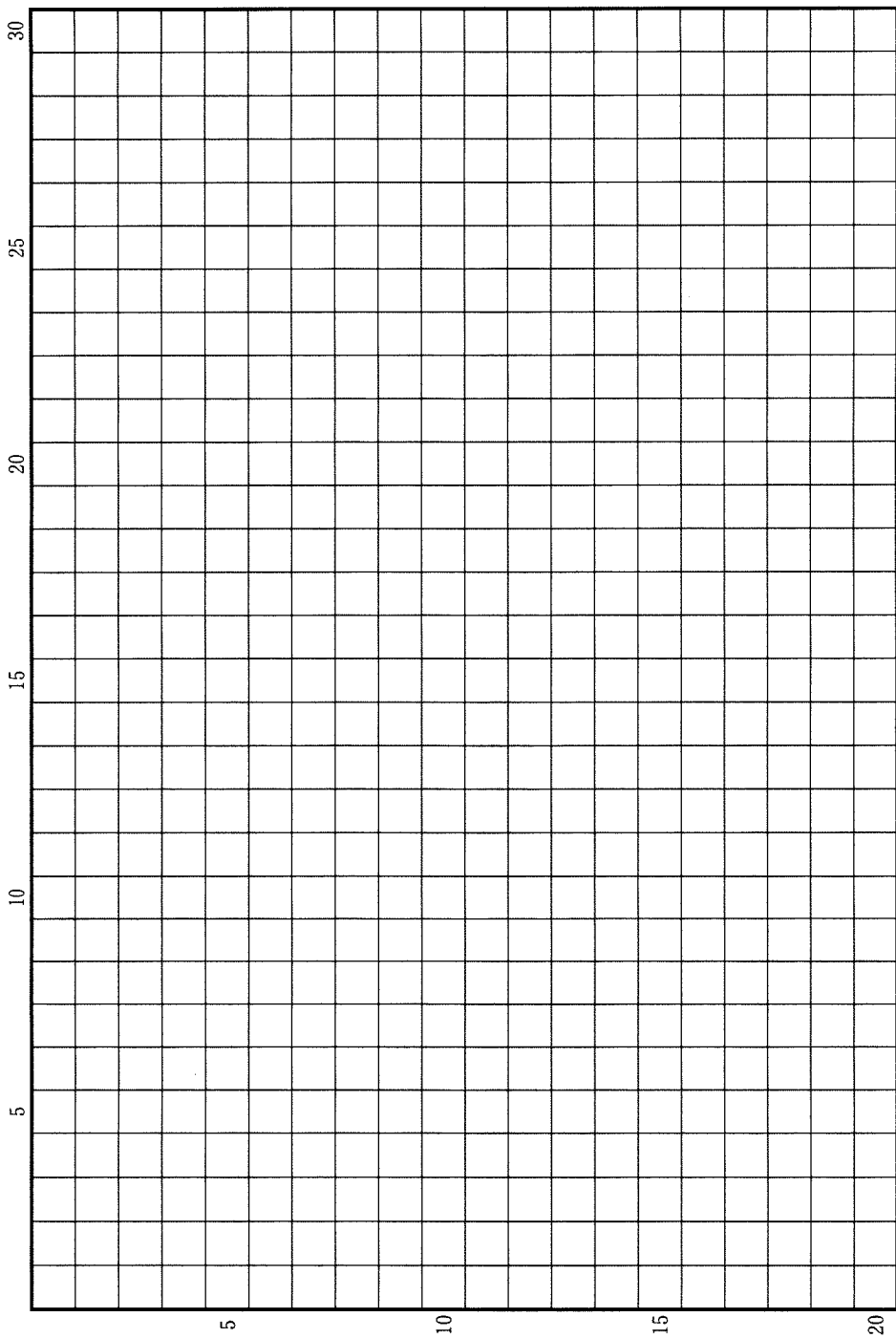
問(9) (a)資料X中の下線部②の記述は正確ではないが、を含む地域において、住民の信仰する宗教が変わったことは事実である。この改宗が進行する以前に、主にゾロアスター教を信仰し、遠距離商業で活躍していた、この地域の人々は何と呼ばれるか、その名称を答えなさい。(b)また、下線部②に記されている人物を含む、ムスリム共同体の初期の4人の指導者は特に何と呼ばれるか、その名称を記しなさい。解答に際しては、(a)・(b)それぞれについて改行して記しなさい。

問(10) 資料Xは、もとの君主であった著者の自伝である。この著者が創設した王朝の宮廷で発達し、現在のパキスタンの国語となった言語の名称を記しなさい。

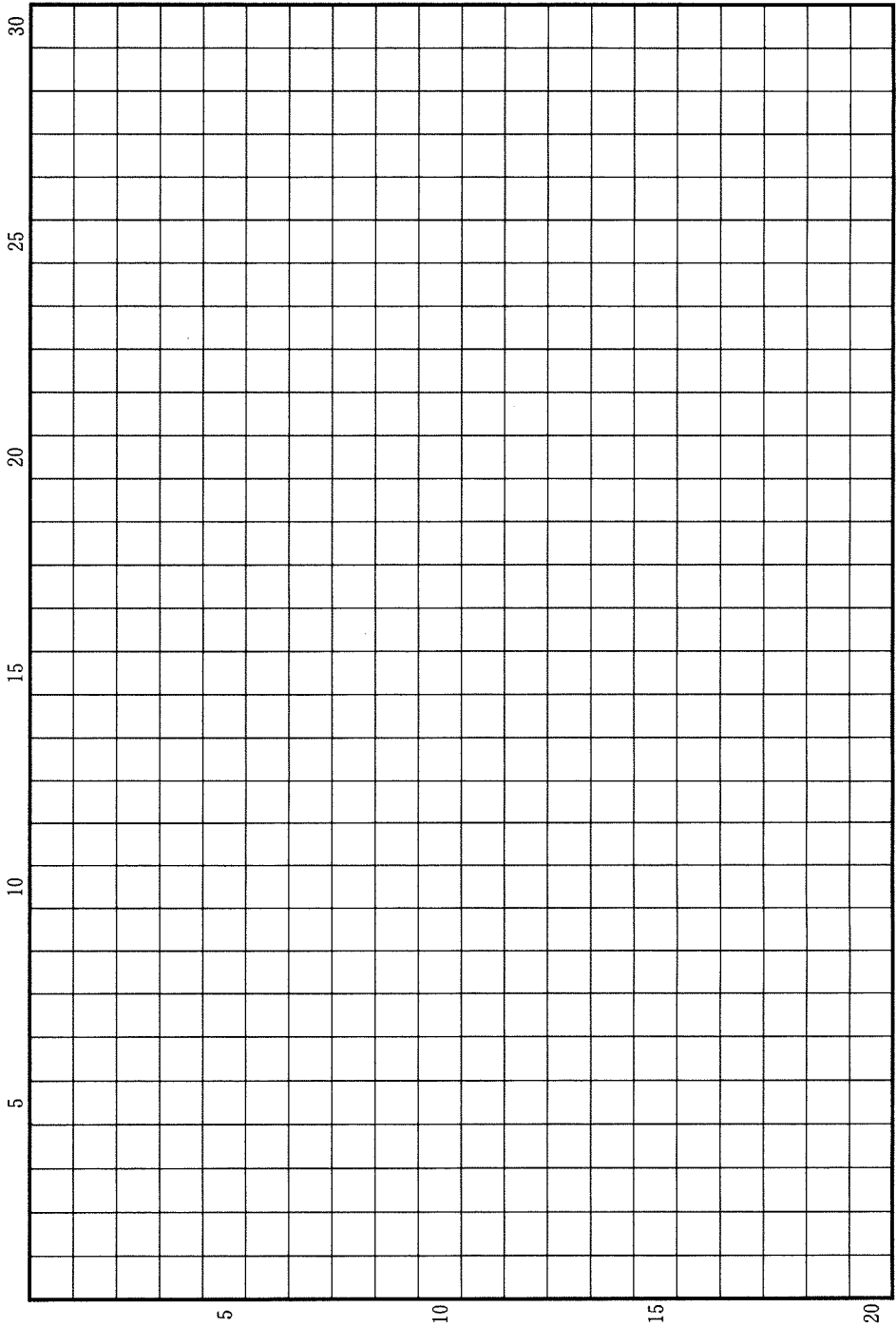
草稿用紙 (切り離さないで用いよ。)



草稿用紙 (切り離さないで用いよ。)

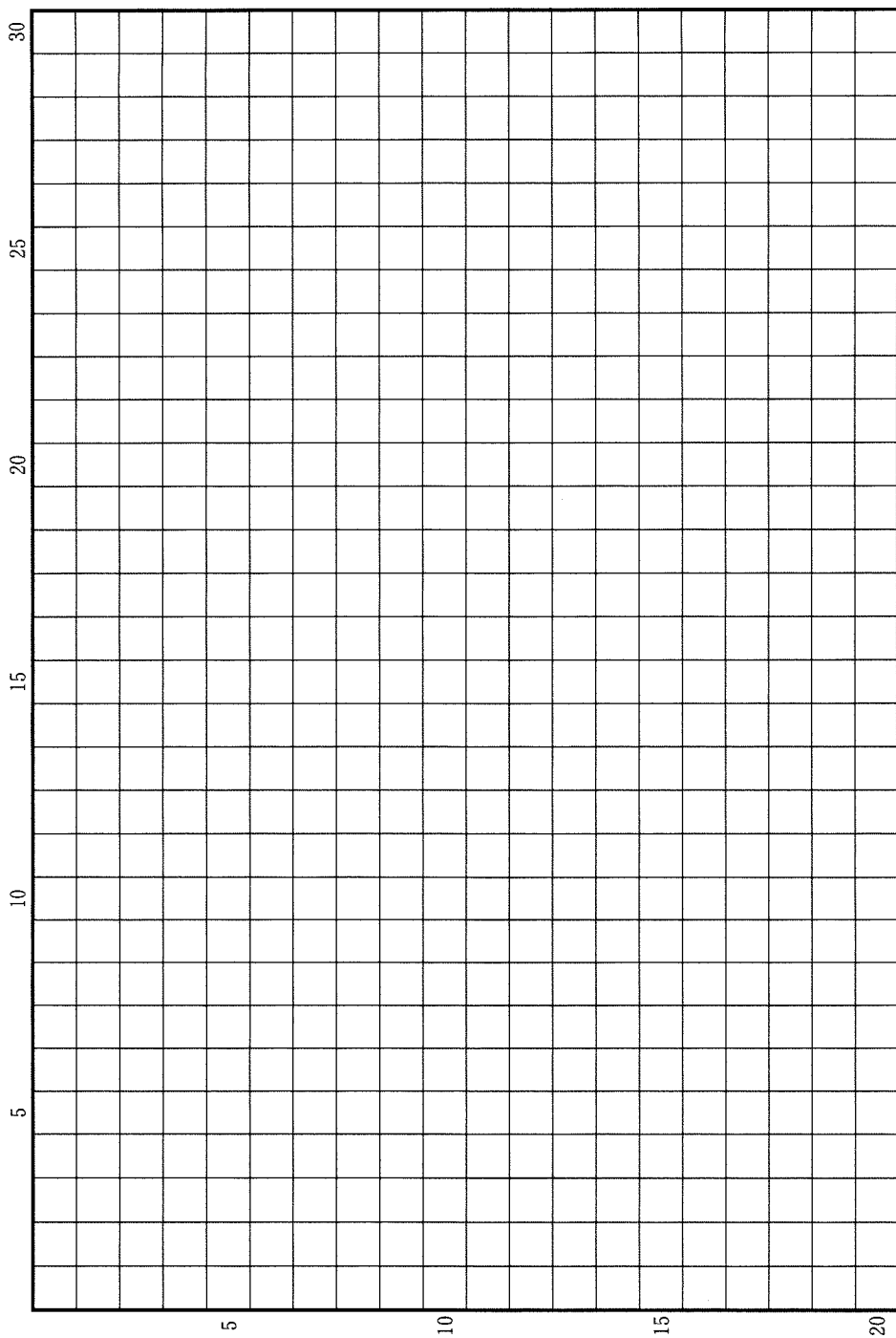


草稿用紙 (切り離さないで用いよ。)





草稿用紙 (切り離さないで用いよ。)



# 地 理

## 第 1 問

地球環境と気候に関する以下の設問 A～B に答えなさい。解答は、解答用紙の (イ) 欄を用い、設問・小問ごとに改行し、設問記号・小問番号をつけて記入しなさい。

### 設問 A

次ページの図 1—1 は、ハワイのマウナロアで観測された 1958 年から 2017 年までの、大気中の二酸化炭素濃度の変化を月単位で示したものである。二酸化炭素濃度は、増加と減少を繰り返しながら、全体としては増加している。この図をみて、以下の問いに答えなさい。

- (1) 二酸化炭素濃度が全体として増加しているのは、主に 2 つの人間活動によっている。どのような活動か、1 行で述べなさい。
- (2) 大気中の二酸化炭素濃度が、細かく増加と減少を繰り返している現象は、どのような原因で起こっているか。2 行以内で述べなさい。
- (3) 図 1—2 は、今世紀の二酸化炭素濃度増加のシナリオである。A と D は、それぞれ人間活動と地球環境がどのようになることを予想したシナリオか。以下の語句をすべて使用して、あわせて 3 行以内で述べなさい。語句は繰り返し用いてもよいが、使用した箇所には下線を引くこと。

エネルギー      気温      固定

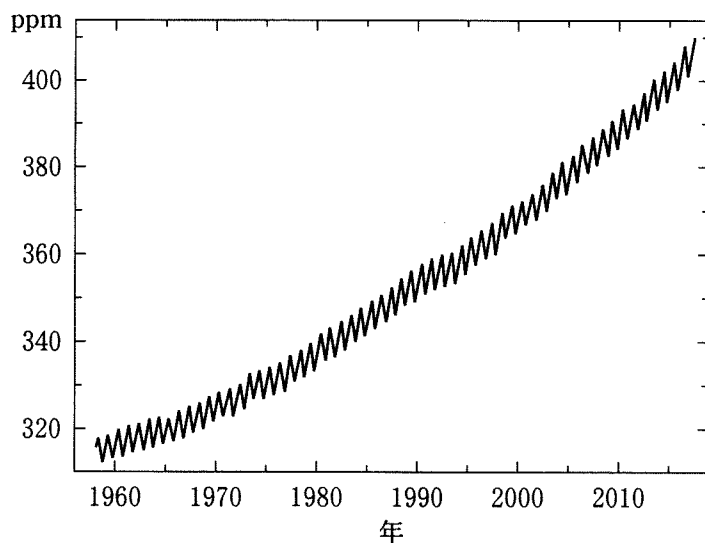


図 1—1

1958年3月から2017年5月までの大気二酸化炭素濃度の変化(ppm)。  
米国海洋大気庁による。

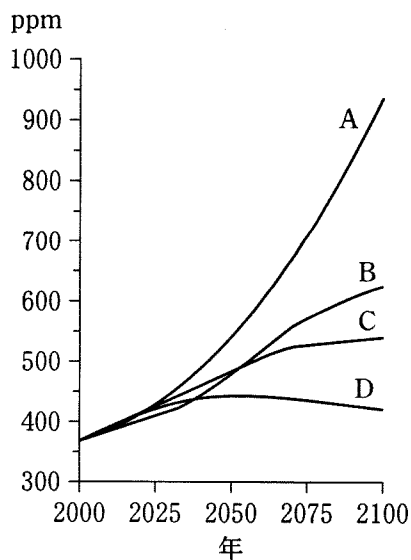


図 1—2

異なるシナリオに基づいて予想された、今世紀の大気中の二酸化炭素濃度変化(ppm)。  
気候変動に関する政府間パネル第5次評価報告書に基づく。

## 設問 B

図 1—3 は、1848 年以降に発生した世界の熱帯低気圧の経路を示した地図である。経路の線の色は熱帯低気圧の強度を示し、白いほど弱く、灰色が濃いほど強い。図 1—4 は、1970 年に発生した熱帯低気圧のみの経路を例示している。

- (1) 強い熱帯低気圧には地域別の名称があり、日本を含む東～東南アジアに襲来するものは台風と呼ばれている。他の 2 つの代表的な名称と、それが使われる地域を「台風—東～東南アジア」のように記しなさい。
- (2) 熱帯低気圧は赤道付近を除く熱帯～亜熱帯の海上で発生し、その後は、北上または南下するが、北半球では進路の方向が最初は北西で次に北東に変わり、南半球では最初は南西で次に南東に変わる傾向がある。このような変化が生じる理由を 1 行で述べなさい。
- (3) 南米大陸の周辺の海では熱帯低気圧がほとんど発生しない。この理由を 1 行で述べなさい。
- (4) 今後、地球環境の変化により熱帯低気圧の強度や発生頻度が変化する可能性が指摘されている。しかし、仮に熱帯低気圧の強度や発生頻度が増大しなくても、熱帯低気圧が原因で被災する人が世界的に増えると予測されている。このような予測が行われる理由となっている自然や社会の今後の変化を、2 行以内で述べなさい。



図 1—3

米国海洋大気庁による。


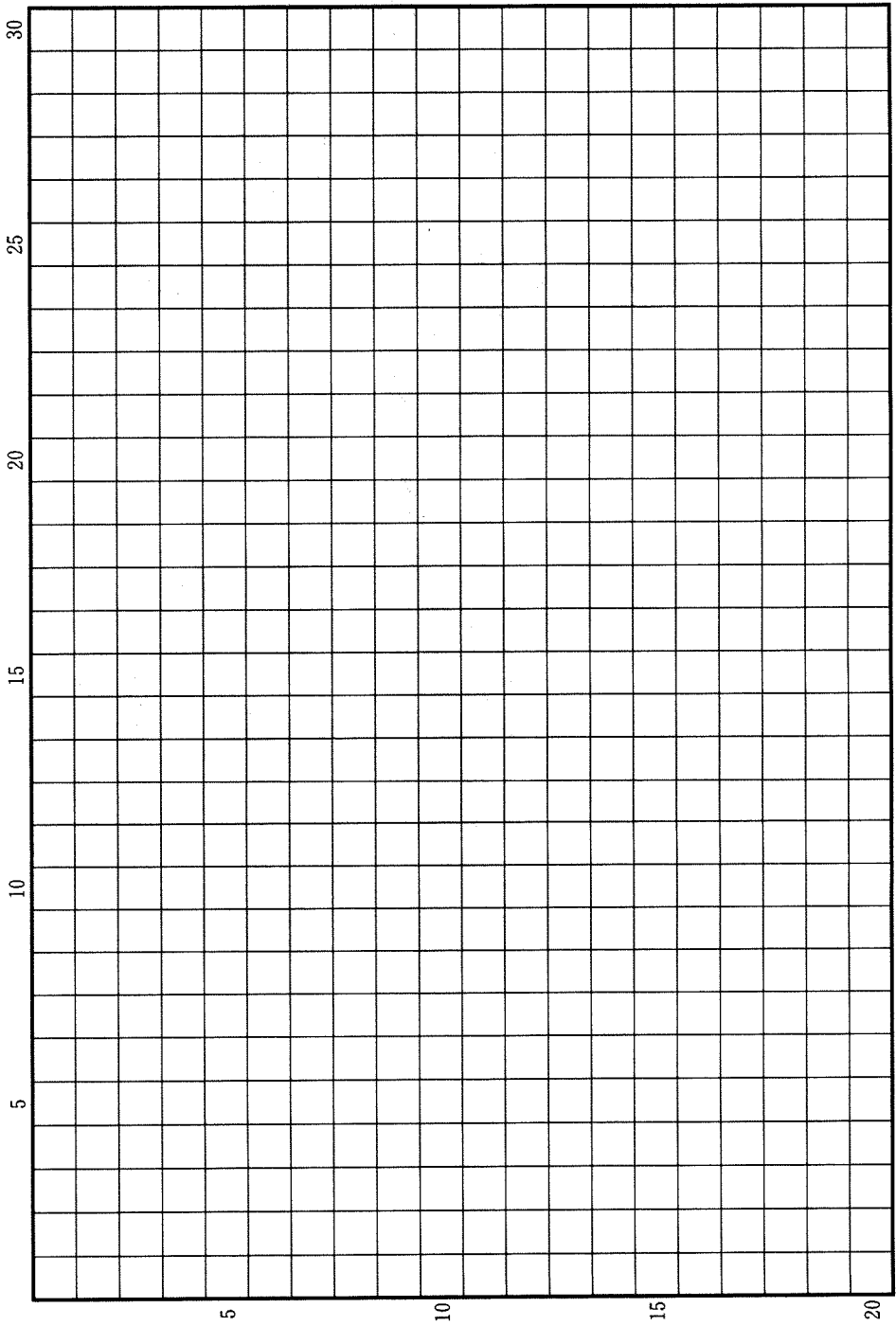


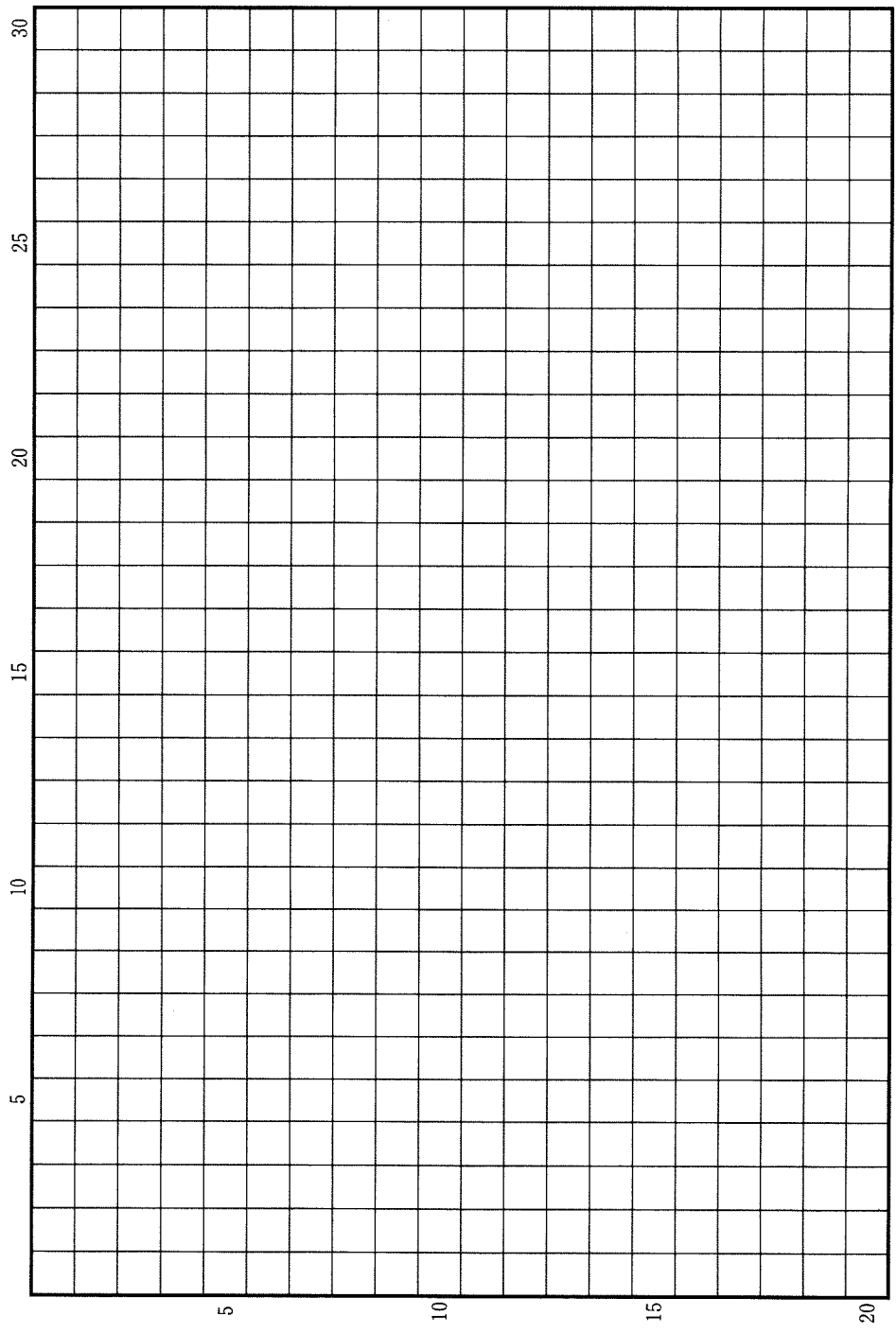
図 1—4

米国海洋大気庁による。

草稿用紙 (切り離さないで用いよ。)



草稿用紙 (切り離さないで用いよ。)



## 第 2 問

世界で見られる、海域をはさんだ地域のつながりに関する以下の設問 A～B に答えなさい。解答は、解答用紙の(ロ)欄を用い、設問・小問ごとに改行し、設問記号・小問番号をつけて記入しなさい。

### 設問 A

国際海運(外航海運)の形態には、あらかじめ航路や日程を定めて運航される定期船と、それを定めずに運航される不定期船とがあるが、定期船の多くは、コンテナを用いて貨物を運ぶコンテナ船である。一方、不定期船の多くは、大量の液体を運ぶタンカーや、鉱石や穀物などの梱包されていない貨物を運ぶ船舶である。それらは、ばら積み船と総称されている。ばら積み船のうち、タンカーや鉱石専用船は非常に大型のことが多い。

- (1) 表 2—1 は、2000 年と 2014 年のいずれかで、コンテナ取扱量が世界第 5 位までの港湾について、両年次の世界順位と 2014 年のコンテナ取扱量を示している。この表を見ると、2000 年に世界 1 位であった香港は、2014 年には 4 位になったのに対し、2000 年に 2 位であったシンガポールは 2014 年でも 2 位と順位を保っている。両港でこのような違いが生じた理由として考えられることを、下記の語句をすべて用いて、2 行以内で述べなさい。語句は繰り返し用いてもよいが、使用した箇所には下線を引くこと。

製品            中継            経済発展

- (2) 表 2—2 は、世界における主要なばら積み船輸送を、品目毎に出発国(地域)と到着国(地域)の組み合わせとして示している。表中の(ア)(イ)はそれぞれ 1 つの国である。その国名を(ア)―○のように答えなさい。



(3) 2016年6月に、9年の工期を要したパナマ運河拡張工事が完了した。これまでより運河の幅や水深が大きくなり、非常に大型の船舶以外は通行が可能になった。これによって、東アジアの輸出入品輸送はどのような影響を受けると考えられるか。輸出品と輸入品の例をあげ、下記の語句をすべて用いて、あわせて3行以内で述べなさい。語句は繰り返し用いてもよいが、使用した箇所には下線を引くこと。

コンテナ船      ばら積み船      陸上輸送      輸送費      アメリカ大陸

表2-1

2014年 世界順位	2000年 世界順位	港 湾 名	2014年取扱量 (千 TEU)
1	6	上 海	35,285
2	2	シンガポール	33,869
3	11	深 圳	24,037
4	1	香 港	22,283
5	—	寧 波	19,430
6	3	釜 山	18,678
11	5	ロッテルダム	12,297
13	4	高 雄	10,590

TEUは20フィートコンテナ換算の個数。

「—」はデータなし。

国土交通省『海事レポート』各年版による。

表2—2

(2014年)

品名	出発国(地域)	到着国(地域)	輸送量(百万トン)
原油	中東	中国	160
	中東	日本	143
	中東	韓国・台湾	141
鉄鉱石	(ア)	中国	548
	(ア)	日本	83
	(ア)	韓国・台湾	67
	(イ)	中国	173
	(イ)	日本	37
原料炭	(ア)	東アジア	89
	北アメリカ	東アジア	32
一般炭	インドネシア	東アジア	187
	インドネシア	インド	133
	(ア)	東アジア	213
穀物	北アメリカ	東アジア	66
	南アメリカ	東アジア	53

国土交通省『海事レポート2016』による。

## 設問B

インド洋を取り巻く地域では、古くから交易や文化的交流、人の移動が盛んに行われてきた。

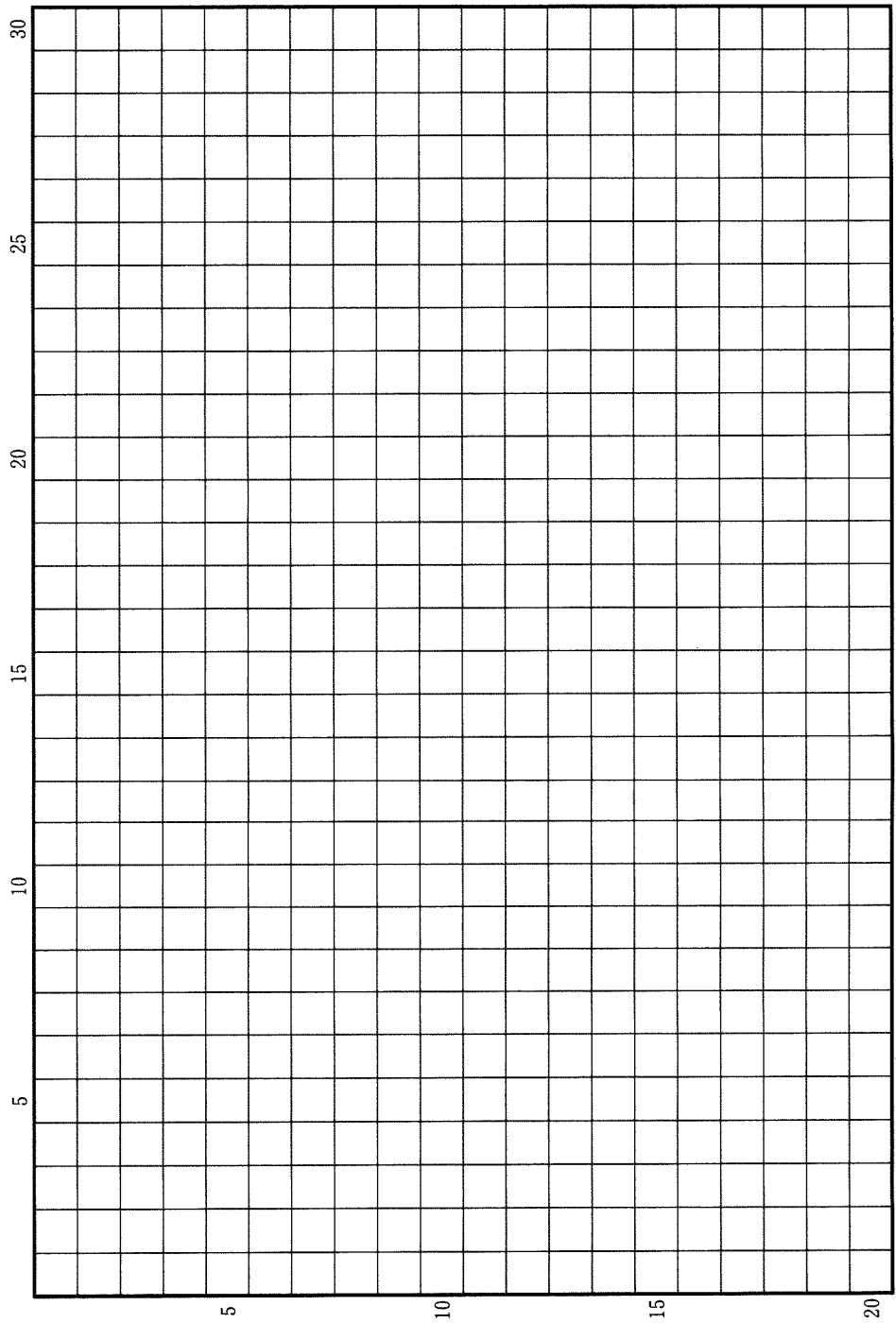
(1) イスラームは、西アジアのアラビア半島に起源を持つ宗教であるが、西アジアには、イスラーム大国とされるイランも含め、ムスリム人口が1億を超える国は存在しない。これに対し、東南アジアには、2億を超える世界最大のムスリム人口を擁するA国、南アジアには1億を超えるムスリム人口を擁するB国、パキスタン、バングラデシュが存在する。A国、B国の国名を、A—○、B—○のように答えた上で、イランとA国の、国の統治のあり方の違いを、宗教の位置づけに注目して2行以内で述べなさい。

(2) インド洋を取り巻く地域には、南アジア以外にも、インド系住民が人口の数%~10%弱を占め、それなりの存在感を示す国々が存在する。東南アジアのマレーシアとシンガポール、アフリカ大陸部の南アフリカ共和国等がそれに該当する。マレーシアや南アフリカ共和国にインド系住民が多数居住するようになった歴史的背景を、下記の語句をすべて用いて2行以内で述べなさい。語句は繰り返し用いてもよいが、使用した箇所には下線を引くこと。

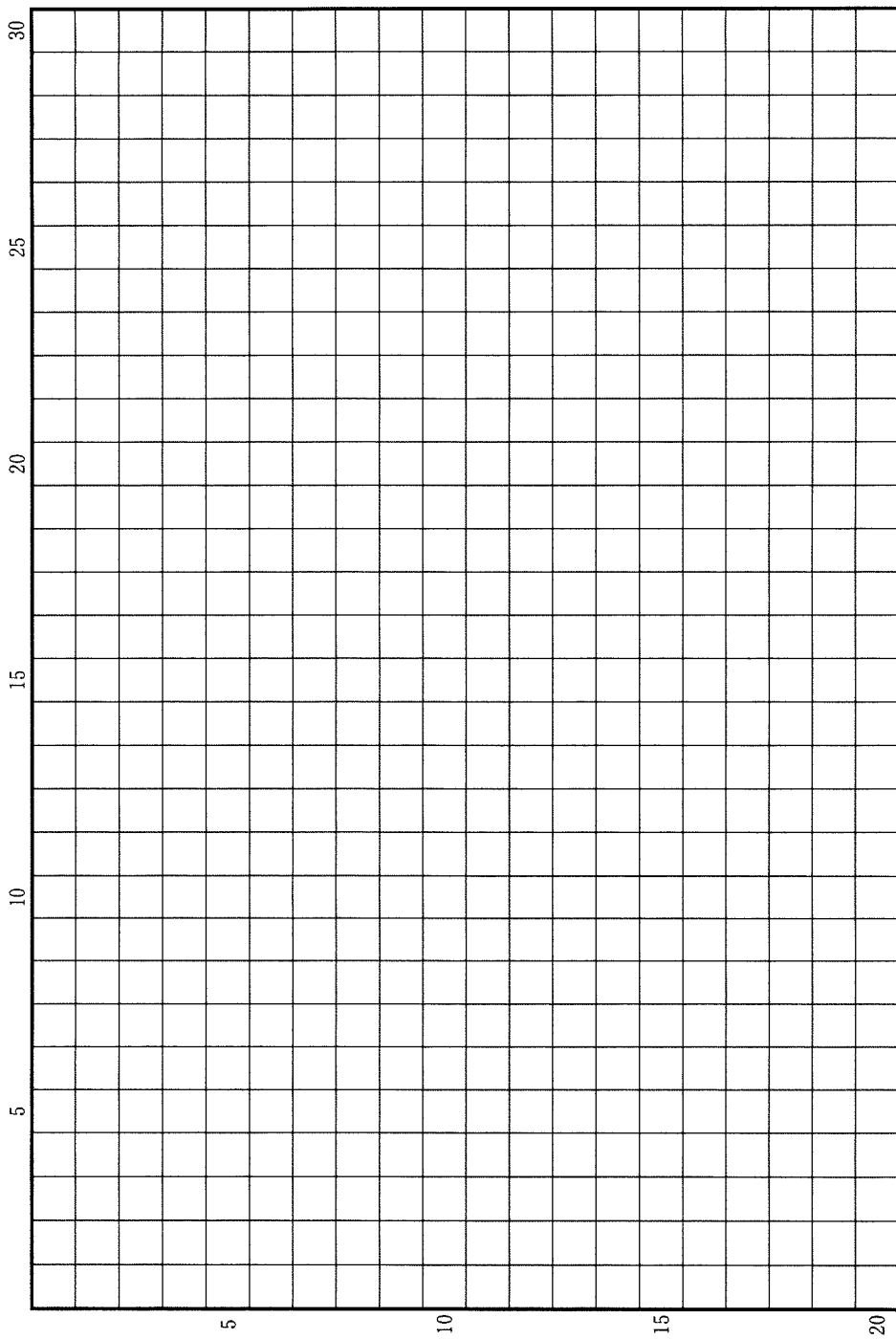
さとうきび      ゴム

(3) インド洋を取り巻く国々は、1997年に「環インド洋連合(IORA)」を組織し、貿易・投資の促進など域内協力推進を図っている。東南アジア諸国からアフリカ東南部インド洋沿岸諸国に対して、今後、どのような分野での貿易や投資が活発になっていくと考えられるか。両地域の経済発展の状況を踏まえ、その理由とともに、2行以内で述べなさい。

草稿用紙 (切り離さないで用いよ。)



草稿用紙 (切り離さないで用いよ。)



### 第 3 問

人口と都市に関する以下の設問 A～C に答えなさい。解答は、解答用紙の (ハ) 欄を用い、設問・小問ごとに改行し、設問記号・小問番号をつけて記入しなさい。

#### 設問 A

国勢調査の結果によると、2010 年～15 年の 5 年間で人口が増加したのは 8 都府県のみであった。図 3—1 は、そのうちの 4 つの都府県について、1985 年以降の 5 年毎の人口増減率を示している。また、図 3—2 は、2010 年～15 年の都道府県別の人口増減率を示している。これらの図をみて、以下の問いに答えなさい。

- (1) 図 3—1 の A, B, C, D は、埼玉県、沖縄県、東京都、福岡県のいずれかである。それぞれの都府県名を、A—D のように答えなさい。
- (2) 図 3—2 で、山梨県と和歌山県では、周囲の都府県と比べて、人口減少率が相対的に大きくなっている。これらの 2 県で、そのようになった共通の理由として考えられることを、下の語群の中から適当な用語 2 つ以上を用いて、2 行以内で述べなさい。語句は繰り返し用いてもよいが、使用した箇所には下線を引くこと。
- (3) 図 3—2 において、沖縄県と北海道を除く地方圏について、人口減少率の大小を比較すると、①全国的には、北関東などの三大都市圏に近い県では人口減少率が相対的に小さく、北東北や四国などの遠い県では人口減少率が大きくなること、②同じ地方ブロック内でも、県によって人口減少率に差異があることの 2 点がみとれる。これらの点が生じた理由として考えられることを、下の語群の中から適当な用語 2 つ以上を用いて、あわせて 3 行以内で述べなさい。語句は繰り返し用いてもよいが、使用した箇所には下線を引くこと。

#### 語 群

移動	距離	過疎化	広域中心	工業化
高速交通	地形	都市規模	農村	半島

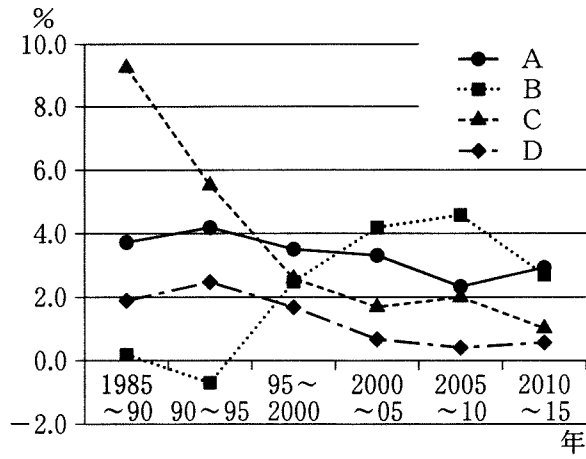


図 3—1

国勢調査による。

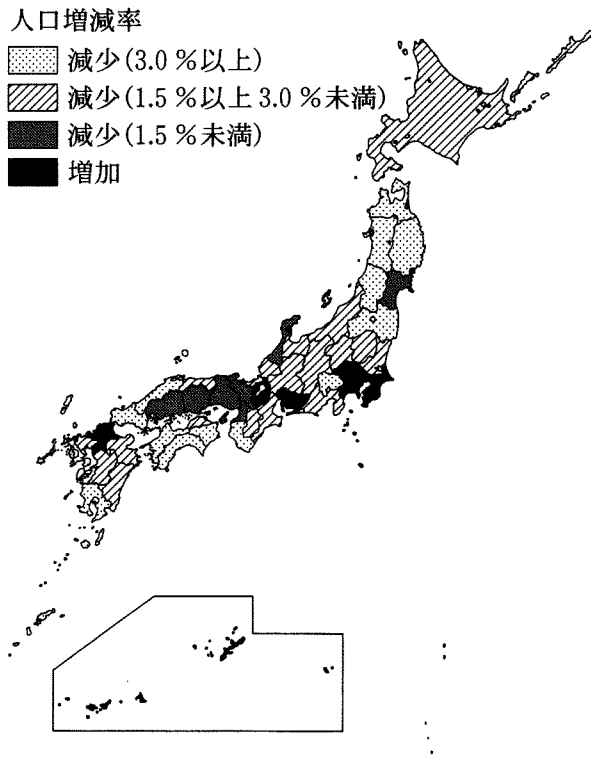


図 3—2

国勢調査による。

## 設問 B

図 3—3 は、日本の 3 つの地方都市、鹿児島、広島、金沢における地表起伏を陰影で、また、人口集中地区の範囲(2015 年現在)をドットで示した地図である。地図には各都市の主要な城跡の位置も示しているが、それぞれの都市域は、この城跡の付近から拡大し始めたと考えられる。

- (1) これら 3 つの都市で、当初の都市域の場所と、その後、拡大していった場所の地形条件を、各都市についてそれぞれ 1 行で述べなさい。
  
- (2) 広島と鹿児島において、都市域の拡大によって増大した自然災害のリスクのうち、両都市で共通するものを 2 つ挙げ、その特徴をあわせて 2 行以内で述べなさい。



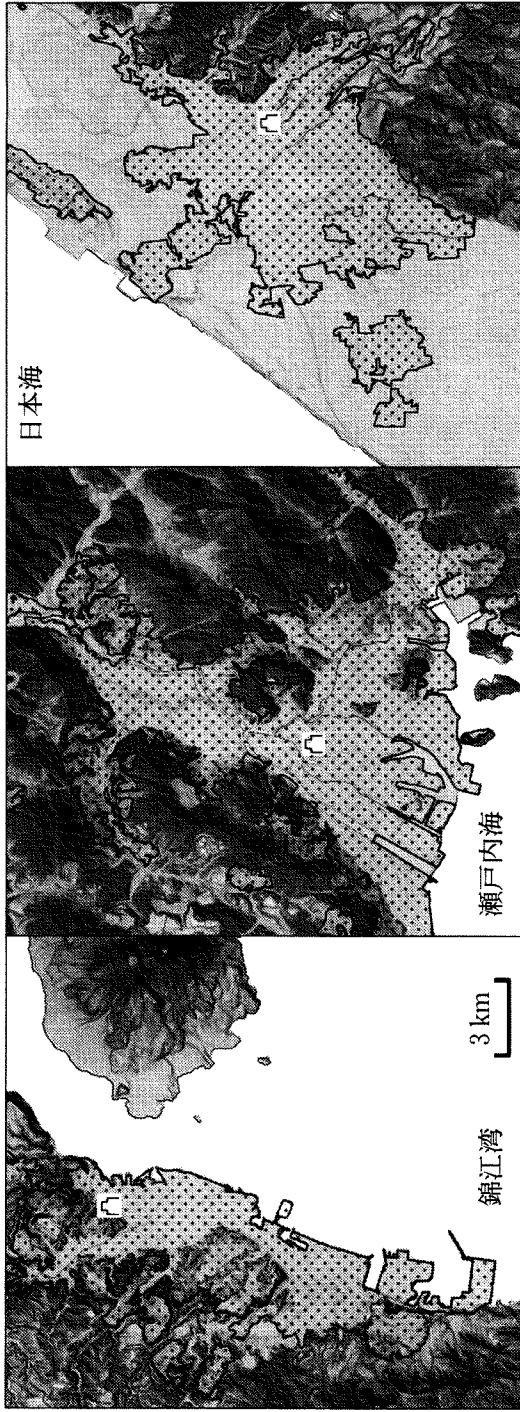


図 3—3

地理院地図による。  
縮尺は全て共通。

### 設問C

TさんとUさんは、それぞれ家族4人で地方に住んでいるが、転勤のため4月からある大都市に引っ越すことになった。2人の会話を読み、以下の問いに答えなさい。

Tさん：「引っ越しの時期が近づいてきましたね。Uさんは4月から住む場所はもう決めましたか？」

Uさん：「いま探しているところです。Tさんはどの辺りに住みたいと思っていますか？」

Tさん：「わたしは都心のターミナル駅や繁華街の周辺に憧れたりするのですが、家賃が高くてなかなか住めないですね。」

Uさん：「そうですね。都心はデパートや専門店、劇場なども多くあって便利だけれど、家賃を考えると部屋を借りるのはちょっと大変ですね。」

Tさん：「都心から電車で20分ぐらい離れた場所は、通勤や通学にも便利でいいですかね？それでもまだ家賃は高そうですね。」

Uさん：「都心からさらに離れた郊外に住むということも考えられますね。」

Tさん：「あと、家から最寄り駅までの移動を考えると、駅からあまり遠くない方がいいですね。」

Uさん：「それと、毎日の買い物のことを考えると、家の近くにスーパーマーケットや食料品店があると便利ですね。」

Tさん：「そうですね。都心のデパートに行っしてする買い物と、近所のスーパーでする買い物は違うものですね。都心の繁華街の楽しさや便利さと、日常生活の暮らしやすさや便利さは、また別の種類のものかもしれないですね。」

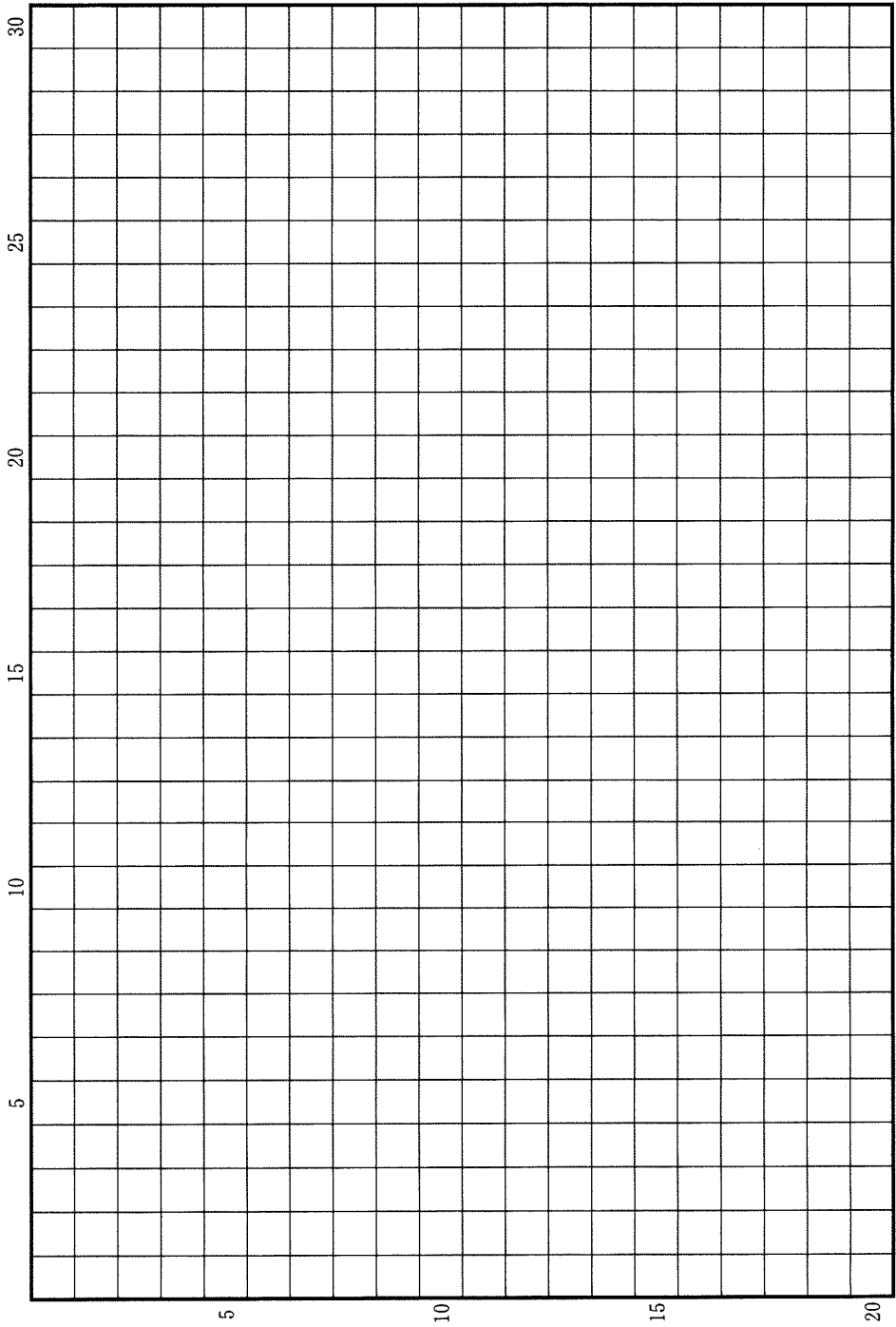
Uさん：「そういえば、このようなことを地理の授業で習った記憶がありますね。身近な話題でもあるんですね。」

- (1) 上記の会話で2人が話している内容をふまえて、大都市の土地利用と生活圏との関係を、以下の語句をすべて用いて、3行以内で述べなさい。語句は繰り返し用いてもよいが、使用した箇所に下線を引くこと。

地価          生鮮食品          中心業務地区

- (2) 大都市での日常の買い物についてみた場合、かつてはその利便性が確保されていたにもかかわらず、最近では、居住者が日用品の購入に不便や困難を感じるようになった地域も発生している。こうした地域が生じている理由について、2行以内で述べなさい。

草稿用紙 (切り離さないで用いよ。)



草稿用紙 (切り離さないで用いよ。)

